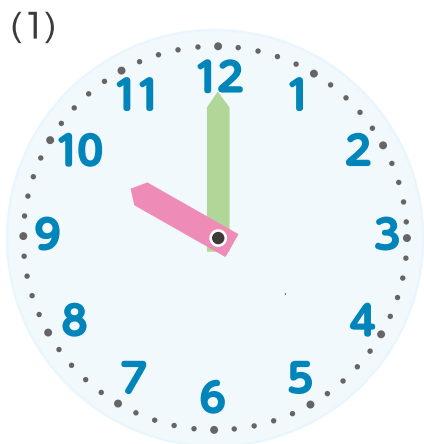
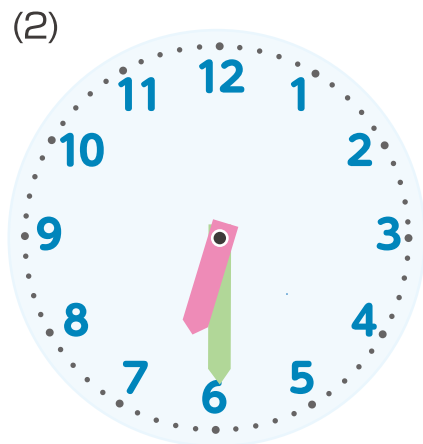


時計の読み方 問題シート(解答)

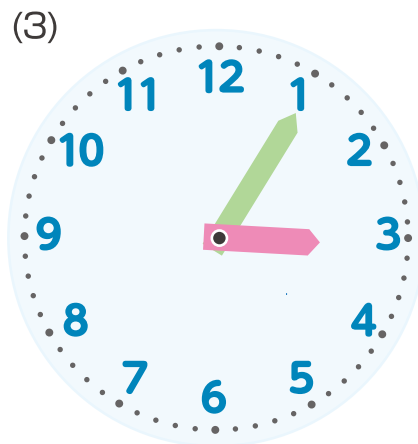
Q1 時計は、なん時なん分ですか？ 時刻を書きましょう。



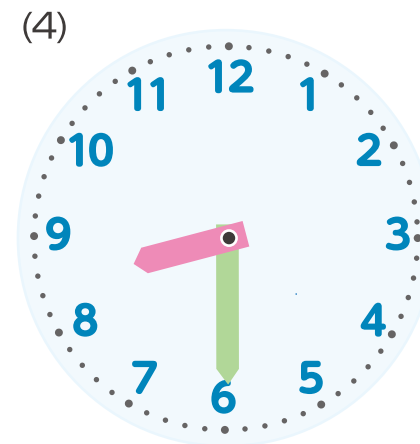
(10 時 00 分)



(6 時 30 分)



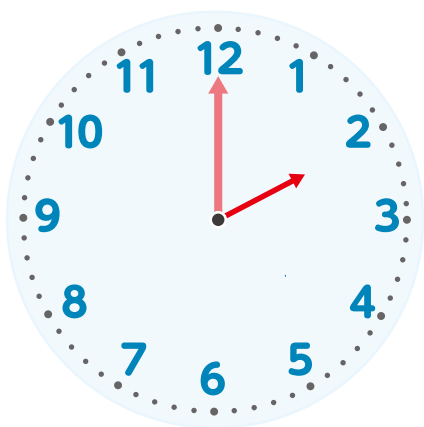
(3 時 05 分)



(8 時 30 分)

Q2 時刻を読んで時計に針を書きましょう。

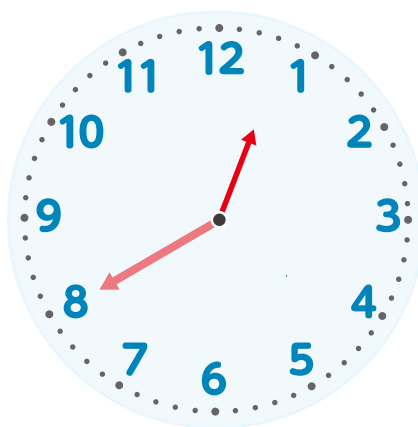
(1) 2 時 00 分



(2) 3 時 30 分



(3) 12 時 40 分



(4) 5 時 35 分

